


Schneeflockenzählen


AUFGABE 8: Wie viele Flocken kannst du zählen? Kreise die passende Zahl darunter ein.



1 2 3 4 5 6 7 8 9 10




1 2 3 4 5 6 7 8 9 10




1 2 3 4 5 6 7 8 9 10


Jetzt wird es etwas schwieriger!



1 2 3 4 5 6 7 8 9 10



1 2 3 4 5 6 7 8 9 10



1 2 3 4 5 6 7 8 9 10